

Nom: _____

Musique – Que connais-tu déjà?

1. Peux-tu identifier les notes suivantes sur la portée en clé de sol?


















si ré fa do fa do si mi la mi do sol ré si la sol

2. Remplis le tableau suivant.

Symbole	Nom	Temps (durée)
	la ronde	4 temps
	la blanche	2 temps
	la noire	1 temps
	la croche	1/2 temps
	La double croche	1/4 temps
	la ronde pointée	6 temps
	la blanche pointée	3 temps
	la noire pointée	1 1/2 temps
	La croche pointée	1 temps

Symbole	Nom	Temps (durée)
	La pause	4 temps
	La demi-pause	2 temps
ou	le soupir	1 temps
	Le demi-soupir	1/2 Temps
	Le quart de soupir	1/4 temps
	la pause pointée	6 temps
	la demi-pause pointée	3 temps
	Le soupir pointée	1 1/2 temps
	le demi-soupir pointé	1 temps

3. Nomme les symboles suivants.

 <u>la clé de sol</u>	 <u>double barre</u>	 <u>Chiffres indicateurs</u>
 <u>crescendo</u>	 <u>decrescendo</u>	 <u>piano</u>
 <u>forte</u>	 <u>pianissimo</u>	 <u>fortissimo</u>
 <u>mezzo forte</u>	 <u>mezzo piano</u>	 <u>le dièse</u>
 <u>le bémol</u>	 <u>le bémolle</u>	 <u>barre de mesure</u>
 <u>la clé de fa</u>	 <u>le triplet</u>	